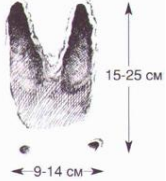







1 класс



| № | Вопрос | Правильный ответ |
|----|--|----------------------|
| 1. |  <p>На гербе одного из районов Рязанской области изображено животное вооруженное золотом. След принадлежит этому животному. Назовите район.</p> | Ермишинский район |
| 2. |  <p>Эта ветка принадлежит дереву, изображенному на гербе одного из районов Рязанской области, как символ лесного изобилия, уединенности и удаленности этого места. Назовите район Рязанской области.</p> | Ермишинский район |
| 3. | <p>Назовите район Рязанской области, в гербе которого есть волнообразный серебряный пояс, символизирующий реку, исток которой – в Орловской области</p> | Шиловский район |
| 4. | <p>Это животное занесено в Красную книгу Рязанской области. Ведет полуводный образ жизни, заселяя непроточные водоёмы, активна круглый год, всеядна, дом расположен в норе берега водоема. Ассоциации, про это животное: хоботок, перепонки, мускусные (пахучие) железы.</p> | Выхухоль |
| 5. | <p>Кустарник с изогнутыми шипами, с ароматными лекарственными цветами. Отваром плодов этого растения на Руси лечили хвори и болезни. Поэтому и получил он народное название «хвороборник». Этот кустарник является предком растения, которое называют королевой цветов. Назовите этот кустарник.</p> | Шиповник морщинистый |
| 6. | <p>Назовите 2 самых крупных притока главной реки нашей области, начинающиеся на букву «П»</p> | Проня, Пара |
| 7. | <p>Это водное растение можно встретить только на «тихой» воде, не любит быстрых течений. На поверхности воды плавают листья и белые цветки. По народным поверьям корневище этого растения, находящегося под водой, оберегает путешественников от бед и несчастий. Это растение в народе называют одолень-трава. Назовите растение.</p> | Кувшинка белая |
| 8. |  <p>Назовите когда-то протекавшую реку в городе Рязани на этом месте.</p> | Лыбедь |
| 9. | <p>Послушайте голос животного. Какой птице он принадлежит?</p> | Грач |


2 класс

| № | Вопрос | Правильный ответ |
|----|--|-------------------|
| 1. | <p>На фрагменте фотографии представлено животное, которое изображено на гербе одного из районов Рязанской области. Назовите район.</p>  | Пителинский район |


| | | |
|----|--|------------------------------|
| 2. | <p>Эта шишка принадлежит дереву, которое можно увидеть на гербе одного из районов Рязанской области. Назовите этот район Рязанской области.</p>  | Ермишинский район |
| 3. | <p>В оконечности щита герба этого района Рязанской области – лазоревый (синий, голубой) пояс, означающий реку Оку. Назовите район</p> | Рязанский район |
| 4. | <p>Это животное занесено в Красную книгу Рязанской области. Вид редкий в нашей области, ученые предполагали, что она только забегает в нашу область из соседней Владимирской. Обитатель хвойных лесов с буреломом. Питается зайцами, птицами и мелкими зверьками</p> | Рысь |
| 5. | <p>У этого кустарника много разных народных названий: арча, верес, «виноград хвойных лесов». Назовите растение</p> | Можжевельник обыкновенный |
| 6. |  <p>Назовите реку, протекающую около Кремля в городе Рязани</p> | Трубеж |
| 7. | <p>Травянистое растение, занесено в Красную книгу Рязанской области. В народе его называют «мохнатиком», из-за рассечённых листьев. Цветки золотисто-желтые, блестящие. Цветёт ранней весной. Растение редкое. Распашка опушек, интенсивный выпас животных, сбор населением цветущих растений привело к сокращению численности. Назовите это растение.</p> | Адонис весенний или горицвет |
| 8. | <p>Назовите 2 самых крупных притока главной реки нашей области, начинающиеся на букву «П»</p> | Проня, Пара |
| 9. | <p>Послушайте голос животного. Какой птице он принадлежит?</p> | Галка |

3 класс

| № | Вопрос | Правильный ответ |
|----|--|---------------------|
| 1. |  <p>На гербе этого района Рязанской области изображено животное с очень сильными лапами; внутренняя поверхность пальцев покрыта шипиками; когти большие и резко согнутые. Назовите район.</p> | Скопинский район |
| 2. | <p>Это дерево является символом долговечности, силы, мощи и воинской доблести. Назовите район Рязанской на гербе, которого изображено дерево с золотым стволом на зеленом холме.</p> | Пронский район |
| 3. | <p>В напоминание о старинном рыболовном ноже, давшем название городу можно обозначить как «Спас на рыбоочистке». Лазоревое поле в гербе этого района говорит об изобилии рек, озер и болот. Назовите район</p> | Клепиковский район |
| 4. | <p>Этот грызун занесен в Красную книгу Рязанской области, имеет большие защечные мешки (в них помещается до 50 г зерна). Часто обитает в усадьбах населенных пунктов сельского типа и в пригородной зоне. Ведет сумеречный и ночной образ жизни. Его дом – нора. При раскопке кладовок в Рыбновском и Захаровском районах запасы достигали до 20 кг зерен пшеницы, ячменя, гороха, овса.</p> | Хомяк |
| 5. |  <p>Плоды этого кустарника на вкус горькие, но любят их многие птицы: снегири, дрозды, свиристели и мелкие зверьки. Назовите растение</p> | Калина обыкновенная |

| | | | |
|----|---|--|----------------|
| 6. |  | Назовите реку, которую известный городской меценат в 1790-е годы перегородил земляной плотиной с мельницей, запустил рыбу и образовался чудесный пруд. На фото – современный вид водного объекта и Центральный спортивный комплекс | Лыбедь |
| 7. | | Широко распространенное на Руси растение сейчас занесено в Красную книгу Рязанской области (2011г.) У этого растения есть и такие названия: рогульник, чертик. Назовите растение | Чилим |
| 8. | | Назовите самое большое озеро Рязанской области | Великое |
| 9. | | Послушайте голос животного. Какой птице он принадлежит? | Синица большая |

4 класс

| № | Вопрос | Правильный ответ | |
|----|---|--|---------------------------------|
| 1. |  | Такой след на мокром песке оставляет животное, изображенное на гербе одного из районов Рязанской области. Это животное питается разнообразной мелкой рыбешкой, а так же лягушками. При случае оно пользуется возможностью поймать тритона, небольшую змею (ужи обычно держатся у воды), мышонка или птенца водяной птицы. Назовите район. | Сасовский район |
| 2. |  | На фото изображены семена дерева, древесина которого используется для изготовления частей многих музыкальных инструментов. Назовите район Рязанской области, на гербе которого изображено это музыкальное дерево. | Ермишинский район |
| 3. | | Назовите реку и район Рязанской области, в гербе которого изображена река, а также есть золотой ряж (сруб), заполненный серебряными камнями | Хупта, Ряжский |
| 4. | | Это небольшое животное с вытянутым телом, пушистым хвостом, короткими ногами и почти незаметными ушками занесено в Красную книгу Рязанской области. Грызун имеет особенность в окраске, которая дала ему видовое имя. Селится колониями на склонах оврагов, луговых нераспаханных участках. | Суслик |
| 5. | | У писателя, есть такие строки об этом кустарнике: «На каждой ветке я развесил длинные серёжки. Если качнуть серёжку, из-под чешуек посыплется жёлтая пыльца. Я богатый, её у меня много! Кончится вешний праздник, оденусь я листьями, оброню наземь отцветшие серёжки. А на ветках, под листьями-то, завяжутся у меня ...-тройняшки. Исполдволь, незаметно начнут наливаться, круглеть, выглядывать из мохнатых зелёных воротничков». Назовите это растение. | Лещина или орешник обыкновенный |
| 6. |  | Назовите реку, протекающую рядом с торговым центром «Премьер». На этой реке в 1941 году около моста находились огневые точки для защиты города. Сегодня там установили противотанковые ежи | Павловка |
| 7. | | Растение растёт на болотах. Круглые листья усажены маленькими ресничками с липкими капельками. Капельки эти привлекают насекомых, которыми и питается это растение. Назовите растение. | Росянка |
| 8. | | Назовите 3 самых крупных притока реки Ока, протекающих на территории Рязанской области и начинающиеся на букву «П» | Пра, Проня, Пара |
| 9. | | Послушайте голос животного. Какой птице он принадлежит? | Снегирь обыкновенный |