






5 класс


№	Вопрос	Правильный ответ
1.	Это хищное животное распространено по всей лесной и лесостепной зонам. Район, на гербе которого изображено это животное, так же расположен в зоне широколиственных лесов. На территории Рязанской области встречается 2 вида: один, из которых размером примерно с голубя, другой вид заметно больше вороны. Назовите район.	Сапожковский район
2.	Этот район Рязанской области был довольно развитым аграрным краем, о чем свидетельствуют, изображенные на гербе три колоса. Ветки дерева на гербе скрещены и расположены на золотом щите. Назовите район.	Путятинский район
3.	Назовите приток Оки, являющийся самой крупной рекой Сараевского района. В гербе района изображены символы процветания рыбного хозяйства.	Пара
4.	Подземное Краснокнижное (Рязанская область) животное, у которого нет ни хвоста, ни ушных раковин, а глаза скрыты под кожей. Грызун поселяется на огородах, в садах, по лесным опушкам, заходит на окраины лесных массивов. Питается подземными частями растений (особенно бобовых), а иногда втягивают травинки под землю целиком, ухватив зубами за корень.	Слепыш
5.	 Образуется подлесок в хвойно-широколиственных лесах. Цветёт ранней весной до распускания листьев. Мужские соцветия – сережки. Женские соцветия – тонкие малиновые усики, которые пучком высовываются из самых обычных по виду почек. Семенами, находящимися в твердой оболочке, питаются многие лесные животные. Назовите растение.	Лещина или орешник обыкновенный
6.	 В Рязанской области более десятка озер носят название, связанное с растением. Есть такое озеро и в Рязани. Расположено оно рядом с лесопарком, рекой Окой и автомобильной дорогой на Солотчу. Назовите озеро.	Ореховое
7.	 Растение, у которого верхние листья-усики, цепляются за кусты и помогают тонкому стеблю держаться вертикально. Цветок – крупный колокольчик в крапинку. За необычный пестрый наряд, привлекающий внимание ранней весной, был уничтожен на значительной территории области. Вид взят под охрану, занесен Красную книгу Рязанской области.	Рябчик русский
8.	Назовите 3 самых крупных правых притока реки Ока в Рязанской области	Проня, Мокша, Пара
9.	Послушайте голос животного. Какой птице он принадлежит?	Дрозд-рябинник

6 класс

№	Вопрос	Правильный ответ
1.	Кречет, балобан, сапсан, чеглок, дербник, кобчик, пустельга. Всех этих птиц можно назвать, одним словом. Видимо, один из этих видов изображен на гербе одного из районов Рязанской области, как символ благородства, храбрости и неустрашимости. Назовите район.	Чучковский район
2.	Плоды этого дерева вымачивали в кипятке, высушивали, перемалывали и получали муку, которую использовали для выпечки лепёшек, хлеба, даже готовили кофейный напиток. Ветвь с плодами можно увидеть на гербе одного из районов Рязанской области. Они символизируют силу и мощь, указывают на развитую лесную промышленность в этом районе. Назовите район.	Сараевский район
3.	В гербе этого района – золотое корабельное основание и река, изображенная в виде волнистой серебряной перевязи (диагональной полосы). Назовите район и реку	Касимовский, Ока




4.	Красная книга Рязанской области. Грызун, который передвигается на длинных пятипалых задних ногах. Хвост с большой черной кисточкой — «знаменем». Уши очень длинные. Предпочитает открытые ландшафты с поврежденным растительным покровом. В нашем регионе последнее последние встречи известны в Сараевском районе.	Тушканчик
5	 Розовые сидячие цветы распускаются до появления листьев, привлекая пчёл, бабочек, мух. Цветы и красные ягоды ядовиты. Кустарник имеет лубяной слой. Благодаря ему ветку оторвать сложно. Растет в подлеске широколиственных и смешанных лесов, вырубка, которых привела к сокращению численности этого растения. Оно занесено в Красную книгу Рязанской области. Назовите растение.	Волчье лыко
6.	 На территории города протекает 11 рек и ручьев. На одной из рек под Рязанью есть «Ниагарский водопад» (водный каскад). Назовите реку	Листвянка
7.	Название этого растения происходит от греческого слова «анемос». У растения, довольно крупные белые одиночные цветы с шестью лепестками на тонких длинных качающихся цветоносах. Назовите растение.	Ветреница дубравная
8.	Назовите самый крупный левый приток реки Оки в Рязанской области	Пра
9.	Послушайте голос животного. Какой птице он принадлежит?	Свиристель

7 класс

№	Вопрос	Правильный ответ
1.	Два животных изображено на гербе этого района Рязанской области не случайно, в этом районе существует уникальное крупнейшее хозяйство по разведению этих животных. Назовите район.	Сараевский район
2.	Район Рязанской области славится своим садоводством. Поэтому на флаге и на гербе изображена золотая ветвь плодового дерева. Назовите район Рязанской области.	Старожиловский район
3.	В гербе это района изображена река, название которой восходит к финно-угорскому «тцина», означающего «илистая река». Назовите район и реку	Сасовский, Цна
4.	Самый крупный представитель своего рода. Занесен в Красную книгу Рязанской области, Российской Федерации, МСОП. В Рязанской области вид отмечен однажды в Окском заповеднике около 30 лет назад. Ведет скрытный образ жизни, ночное животное. Живет в дуплах в лиственных лесах и парках. Питаются летающими жуками и бабочками. Вид мигрирует на зимовку. Назовите животное.	Гигантская вечерница
5.	 Цветы этого растения – двух типов. Одни не дают плодов и служат только для привлечения насекомых. Другие, не имеющие лепестков, являются плодоносящими. Назовите растение.	Калина обыкновенная
6.	 Около реки Листани ранней зимой 1444 года произошла битва русских с татарами, причинив «много зла Рязани». Крымский царевич Мустафа со своим войском остановился на возвышенности, покрытой густым лесом. Там его настигли объединенные рати московского, рязанского и мордовского князей. Как называется эта река сейчас?	Листвянка
7.	 Луковичный весенний эфемероид. На тонком стебле образуются до пяти крупных цветов, собранных в рыхлую кисть. Верхние листья – спирально закрученные усики, цепко держатся за опору. Вид занесен в Красную книгу Рязанской области. Назовите растение.	Рябчик русский

8.	В междуречье каких рек находится исторический центр города Рязани?	Лыбедь и Трубеж
9.	Послушайте голос животного. Какой птице он принадлежит?	Поползень

8 класс

№	Вопрос	Правильный ответ
1.	Для изучения животных, изображенных на гербе этого района, создан Научно-исследовательский институт, который осуществляет методическое руководство и координирует работу научных учреждений и учебных заведений, занимающихся проблемами разведения, селекции и улучшения технологии производства продуктов, производимыми этими животными	Рыбновский район
2.	 <p>Назовите район Рязанской области, на гербе которого можно увидеть две серебряные былинки этого растения, символизирующие степное местоположение района.</p>	Милославский район
3.	Лазурь в гербе района показывает, что этот район расположен на берегах рек и озер, а главный город района получил своё название за обилие рыбы в реках. Назовите район	Рыбновский район
4.	1-ая категория Красной книги Рязанской области. В регионе единичные встречи отмечались практически во всех муниципальных образованиях. К сожалению, за последнее десятилетие ни одной встречи этого хищника не зафиксировано. Лимитирующими факторами являются: перепромысел, изменение ландшафта обитания вида и межвидовая конкуренция, где побеждает более крупный и сильный. Назовите животное.	Норка европейская
5.	Сырьё этого растения считалось самым прочным и мягким, использовалось для изготовления обуви. Во время Великой Отечественной войны партизаны выходили на разведку только в этой обуви, потому что она оставляла не четкий след, который не брали даже собаки. Назовите растение.	Липа сердцевидная
6.	 <p>11 августа 1378 на берегах этой реки состоялась битва русских воинов с татарским войском. Назовите реку</p>	Вожа
7.	 <p>Цветет ранней весной, когда в лесу еще лежит снег. В это время сережки на ветвях этого кустарника сильно удлиняются, становятся желтыми от пыльцы, это тычиночные (мужские) соцветия. Женские соцветия состоят из немногих очень мелких цветков, расположенных плотной кучкой. Во время цветения видны только рыльца этих цветков – тонкие малиновые усики, которые пучком высовываются из самых обычных по виду почек. Назовите растение.</p>	Орешник обыкновенный (лещина)
8.	Сколько рек длиной 2-3 и более километров протекает по территории области?	895
9.	Послушайте голос животного. Какой птице он принадлежит?	Пищуха